





Rechne aus!

Dann kontrolliere dich selbst.

Schreibe die Anzahl der richtig gelösten Aufgaben unter den Diamanten.

Wenn du 100 Diamanten gesammelt hast, erwartest dich eine Überraschung!



$60 + \underline{\quad} = 70$

$10 + \underline{\quad} = 60$

$30 + \underline{\quad} = 100$

$80 + \underline{\quad} = 90$

$20 + \underline{\quad} = 60$

$30 + \underline{\quad} = 70$

$10 + \underline{\quad} = 20$

$20 + \underline{\quad} = 40$

$60 + \underline{\quad} = 70$

$50 + \underline{\quad} = 60$

Berichtigung

---

---

---

---

---

---

---

---

---

---

---

---

---

---

---

---

---

---

---

---

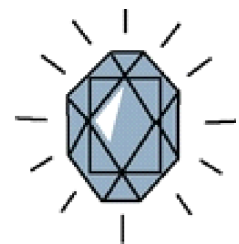
---

---

---

---

10; 50  
70; 10  
40; 40  
10; 20  
10; 10















Rechne aus!

Dann kontrolliere dich selbst.

Schreibe die Anzahl der richtig gelösten Aufgaben unter den Diamanten.

Wenn du 100 Diamanten gesammelt hast, erwartet dich eine Überraschung!



$$\underline{\quad} + 15 = 95$$

$$\underline{\quad} + 55 = 95$$

$$\underline{\quad} + 17 = 97$$

$$\underline{\quad} + 46 = 76$$

$$\underline{\quad} + 13 = 93$$

$$\underline{\quad} + 18 = 38$$

$$\underline{\quad} + 26 = 86$$

$$\underline{\quad} + 11 = 91$$

$$\underline{\quad} + 35 = 95$$

$$\underline{\quad} + 14 = 94$$

Berichtigung

---

---

---

---

---

---

---

---

---

---

---

---

---

---

---

---

---

---

---

---

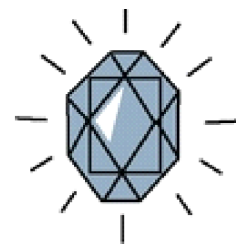
---

---

---

---

80; 20  
40; 60  
80; 80  
30; 60  
80; 80



Rechne aus!

Dann kontrolliere dich selbst.

Schreibe die Anzahl der richtig gelösten Aufgaben unter den Diamanten.

Wenn du 100 Diamanten gesammelt hast, erwartet dich eine Überraschung!



$40 + \underline{\quad} = 61$

$10 + \underline{\quad} = 43$

$20 + \underline{\quad} = 59$

$70 + \underline{\quad} = 85$

$70 + \underline{\quad} = 81$

$60 + \underline{\quad} = 83$

$50 + \underline{\quad} = 91$

$30 + \underline{\quad} = 94$

$70 + \underline{\quad} = 86$

$30 + \underline{\quad} = 54$

Berichtigung

---

---

---

---

---

---

---

---

---

---

---

---

---

---

---

---

---

---

---

---

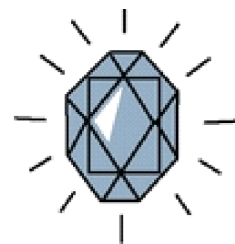
---

---

---

---

21; 33  
39; 15  
11; 23  
41; 64  
16; 24



Rechne aus!

Dann kontrolliere dich selbst.

Schreibe die Anzahl der richtig gelösten Aufgaben unter den Diamanten.

Wenn du 100 Diamanten gesammelt hast, erwartet dich eine Überraschung!



$$\underline{\quad} + 19 = 89$$

$$\underline{\quad} + 10 = 62$$

$$\underline{\quad} + 30 = 45$$

$$\underline{\quad} + 70 = 96$$

$$\underline{\quad} + 20 = 73$$

$$\underline{\quad} + 20 = 94$$

$$\underline{\quad} + 10 = 91$$

$$\underline{\quad} + 14 = 64$$

$$\underline{\quad} + 16 = 66$$

$$\underline{\quad} + 17 = 27$$

Berichtigung

---

---

---

---

---

---

---

---

---

---

---

---

---

---

---

---

---

---

---

---

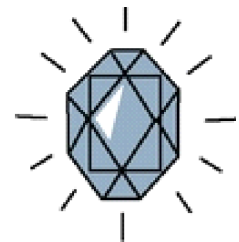
---

---

---

---

70; 74  
52; 81  
15; 50  
26; 50  
53; 10





Rechne aus!  
 Dann kontrolliere dich selbst.  
 Schreibe die Anzahl der richtig gelösten Aufgaben unter den Diamanten.  
 Wenn du 100 Diamanten gesammelt hast, erwartet dich eine Überraschung!



$$\underline{\quad} + 65 = 95$$

$$\underline{\quad} + 17 = 77$$

$$\underline{\quad} + 12 = 62$$

$$30 + \underline{\quad} = 65$$

$$20 + \underline{\quad} = 36$$

$$\underline{\quad} + 50 = 83$$

$$49 + \underline{\quad} = 79$$

$$\underline{\quad} + 19 = 49$$

$$34 + \underline{\quad} = 54$$

$$\underline{\quad} + 71 = 81$$

Berichtigung

---

---

---

---

---

---

---

---

---

---

---

---

---

---

---

---

---

---

---

---

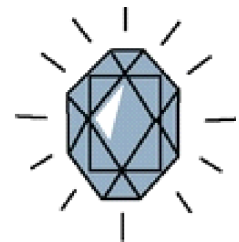
---

---


---

---

30; 33  
 60; 30  
 50; 30  
 35; 20  
 16; 10



## Diamantebörse

Seite	Anzahl der Diamanten		
			
1			
2			
3			
4			
5			
6			
7			
8			
9			
10			
11			
12			
13			
14			
<b>gesamt</b>			

**Zeichne in die Ampel ein, wie du dich selbst einschätzt.**

**Rot = O, weh! Noch einmal üben!**

**Gelb = Hätte schlimmer sein können! Ich muss noch ab und zu üben!**

**Grün = Ich war gut! Her mit den schwereren Aufgaben!**

