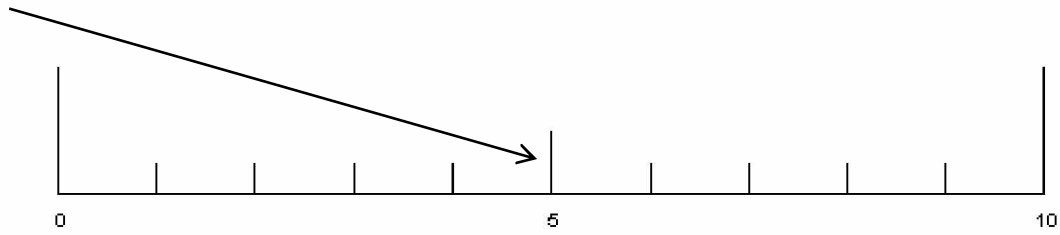


Zeige die Ergebnisse am Zahlenstrahl!
Benutze für die Verbindungslinien Lineal und Bleistift!

2+3 4+3 3+1 5+4 7+3 4+6 7+2 2+0 6+1 3+5



9-8 7-3 5-2 8-4 10-3 6-4 10-0 9-4 7-1 10-3

Löse die Aufgaben!
Beachte die Rechenzeichen!

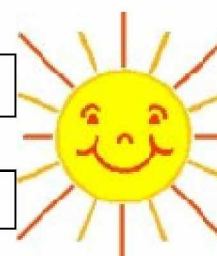


7	+3	
6	-2	
9	-7	
10	-3	
5	+4	
4	+5	
8	-1	
3	+6	
2	+5	
0	+10	

Löse die Aufgaben!

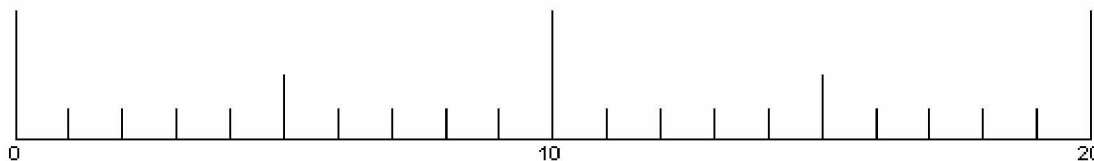
Achte auf die Rechenzeichen!

3	+2		+5	
5	+3		+1	
7	+1		+0	
6	+3		+1	
4	+1		+4	
9	-3		-2	
7	-2		-5	
10	-7		-1	
8	-5		-2	
6	-2		-3	
10	-5		+2	
5	+5		-7	
9	-4		+5	
7	+2		-6	
8	-0		+2	



Zeige die Ergebnisse am Zahlenstrahl!
Benutze für die Verbindungslinien Lineal und Bleistift!

2+7 4+9 3+5 5+6 7+3 4+6 7+5 11+9 16+1 13+5



19-8 17-3 15-6 18-3 10-3 16-4 10-6 12-4 17-1 20-7

Löse die Aufgaben!
Beachte die Rechenzeichen!



17	+3	
16	-2	
19	-7	
12	-3	
15	+4	
14	+5	
18	-1	
13	+6	
12	+5	
7	+10	

Löse die Aufgaben!

Achte auf die Rechenzeichen!

13 $\xrightarrow{+2}$ $\xrightarrow{+5}$

16 $\xrightarrow{+3}$ $\xrightarrow{+1}$

17 $\xrightarrow{+1}$ $\xrightarrow{+0}$

12 $\xrightarrow{+3}$ $\xrightarrow{+5}$

14 $\xrightarrow{+1}$ $\xrightarrow{+4}$

19 $\xrightarrow{-3}$ $\xrightarrow{-2}$

17 $\xrightarrow{-2}$ $\xrightarrow{-5}$

20 $\xrightarrow{-7}$ $\xrightarrow{-1}$

18 $\xrightarrow{-5}$ $\xrightarrow{-4}$

16 $\xrightarrow{-3}$ $\xrightarrow{-3}$

10 $\xrightarrow{-5}$ $\xrightarrow{+8}$

15 $\xrightarrow{+5}$ $\xrightarrow{-7}$

19 $\xrightarrow{-4}$ $\xrightarrow{+5}$

17 $\xrightarrow{+2}$ $\xrightarrow{-9}$

18 $\xrightarrow{-10}$ $\xrightarrow{+7}$

