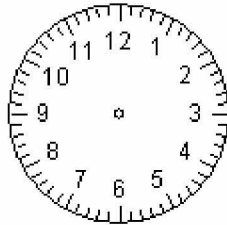



Vereinfachte Kopiervorlage

Der ICE fährt um _____ Uhr in A-Stadt ab.
 Er kommt um _____ Uhr in B-Stadt an.
 Wie lange ist er gefahren?
 Zeichne die Zeiten auch in die Uhren ein. Beschrifte!



_____ Uhr → _____ Uhr




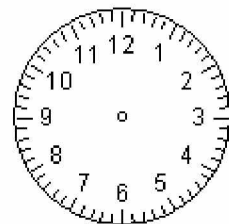
_____ Uhr

_____ Uhr

Der ICE fährt um _____ Uhr in A-Stadt ab.
 Er kommt um _____ Uhr in B-Stadt an.
 Wie lange ist er gefahren?
 Zeichne die Zeiten auch in die Uhren ein. Beschrifte!



_____ Uhr → _____ Uhr



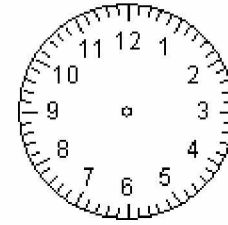

_____ Uhr

_____ Uhr

Der ICE fährt um _____ Uhr in A-Stadt ab.
 Er kommt um _____ Uhr in B-Stadt an.
 Wie lange ist er gefahren?
 Zeichne die Zeiten auch in die Uhren ein. Beschrifte!



_____ Uhr → _____ Uhr



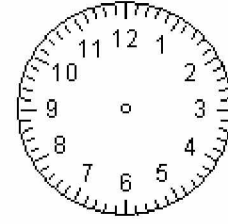
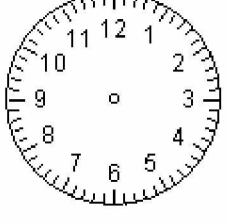
_____ Uhr

_____ Uhr

Der ICE fährt um _____ Uhr in A-Stadt ab.
 Er kommt um _____ Uhr in B-Stadt an.
 Wie lange ist er gefahren?
 Zeichne die Zeiten auch in die Uhren ein. Beschrifte!



_____ Uhr → _____ Uhr



_____ Uhr

_____ Uhr