







Rechengeschichten bis 10 (+ und -)

Rechengeschichte	Bild	Rechnung
<p>Im Stadtpark stehen schon 3 Nadelbäume. Es werden noch 3 Laubbäume gepflanzt.</p> <p>Wie viele Bäume stehen jetzt im Park?</p>		$\underline{\quad\quad} + \underline{\quad\quad} = \underline{\quad\quad}$
<p>Peter hatte 6 Luftballons. Ein Luftballon ist ihm davongeflogen.</p> <p>Wie viele Luftballons hat Peter noch?</p>		$\underline{\quad\quad} - \underline{\quad\quad} = \underline{\quad\quad}$
<p>Martin hat für seinen Geburtstag 5 Lollis gekauft. Mutti legt noch 4 Lollis dazu.</p> <p>Wie viele Lollis hat Martin jetzt?</p>		$\underline{\quad\quad} + \underline{\quad\quad} = \underline{\quad\quad}$

Rechengeschichte	Bild	Rechnung
<p>Auf dem Tisch waren 8 Bananen. Plötzlich waren 3 Bananen weg. Wie viele Bananen sind noch auf dem Tisch?</p>		$\underline{\quad\quad} - \underline{\quad\quad} = \underline{\quad\quad}$
<p>Auf einer Leitung sitzen 4 Vögel. 3 Vögel möchten sich dazu setzen. Wie viele Vögel sitzen dann auf der Leitung?</p>		$\underline{\quad\quad} + \underline{\quad\quad} = \underline{\quad\quad}$
<p>In der Blumenvase waren 7 Blumen. Davon ist eine Blume heraus gefallen. Wie viele Blumen sind noch in der Vase?</p>		$\underline{\quad\quad} - \underline{\quad\quad} = \underline{\quad\quad}$